

Afin de découvrir les mesures de masses, vous pouvez faire les pages suivantes dans le fichier de mathématiques Litchi CE1 (et uniquement celles-ci pour l'instant) :

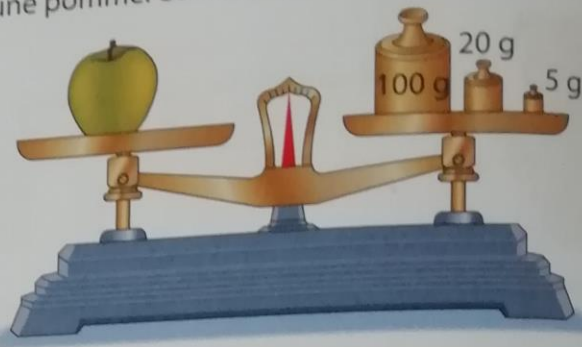
- Mesures de masses (1) p. 74
- Mesures de masses (2) p. 75

En cas d'oubli du fichier à l'école, je vous joins les pages correspondantes ci-dessous.

Mesures de masse (1)

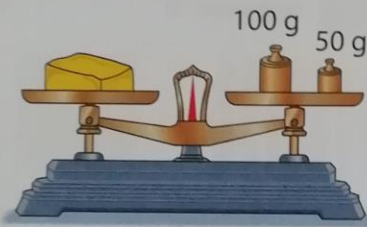
Compétences : Mesurer la masse d'un objet. Utiliser l'unité usuelle : le gramme.

1 Lisa utilise les masses marquées pour peser une pomme. Combien pèse la pomme ?

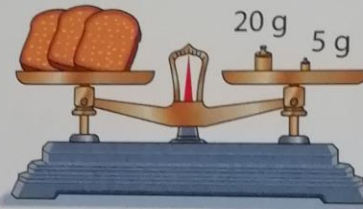


La pomme pèse grammes.


2 Tom a pesé ces aliments. **Observe** les pesées et **écris** la masse de chaque aliment.



..... g



..... g

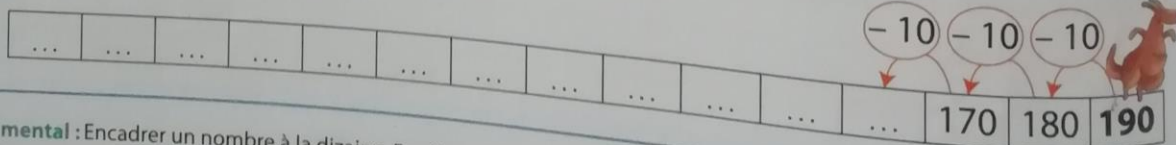


..... g

3 Le tableau indique les masses marquées utilisées pour peser les aliments. **Calcule** la masse de chacun d'eux et **complète** le tableau comme dans l'exemple.

	100 g	50 g	20 g	10 g	5 g	total
paquet de bonbons	X	X	X			170 g
brioche		X	X	X	
paquet de gâteaux	X	X		X	
pot de miel	X	X	X	X	X

Aide Litchi à compléter la bande numérique.



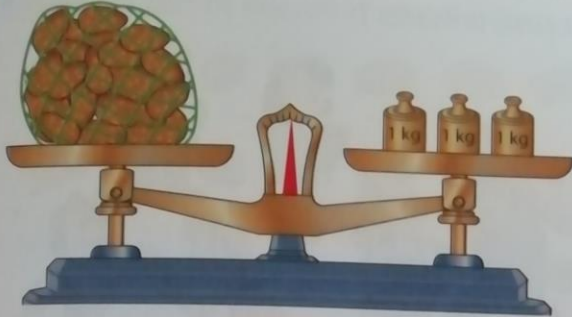
Calcul mental : Encadrer un nombre à la dizaine. Ex.: Nommer un nombre ≤ 199 . Les dizaines supérieures et inférieures : $175 \rightarrow 170 < 175 < 180$; etc.

Mesures de masse (2)


□ □ □ □ □

Compétences : Mesurer et estimer la masse d'un objet ou d'une personne. Utiliser l'unité usuelle : le kilogramme.

1 Tom pèse les courses en kilogrammes. Quelle est la masse de chaque achat ?



..... kg



..... kg

Entoure l'achat le plus lourd.

les pommes de terre

le pack de bouteilles d'eau

2 Complète avec la masse qui convient.

13 kg

1 kg

190 kg

75 kg



..... kg



..... kg



..... kg



..... kg

3 Numérote les enfants de 1 à 5 du plus léger au plus lourd.



35 kg

(.....)



27 kg

(.....)



43 kg

(.....)



48 kg

(.....)



37 kg

(.....)